

Router et acheminer des informations dans un réseau

Alain Cournier

INTRODUCTION (AïE)

Le problème

- Communiquer est un des fondements des systèmes distribués
- On souhaite acheminer une information i vers une destination d .
- Or un nœud ne connaît que des informations sur son voisinage. Donc si l'information est à destination du nœud ou de l'un de ses voisins dans le réseau tout va bien. Que faire dans le cas contraire ?

Je suis Gustave



Je veux envoyer « Coucou » à Gustave. Je dois l'envoyer à Jean ou à Jacques ?

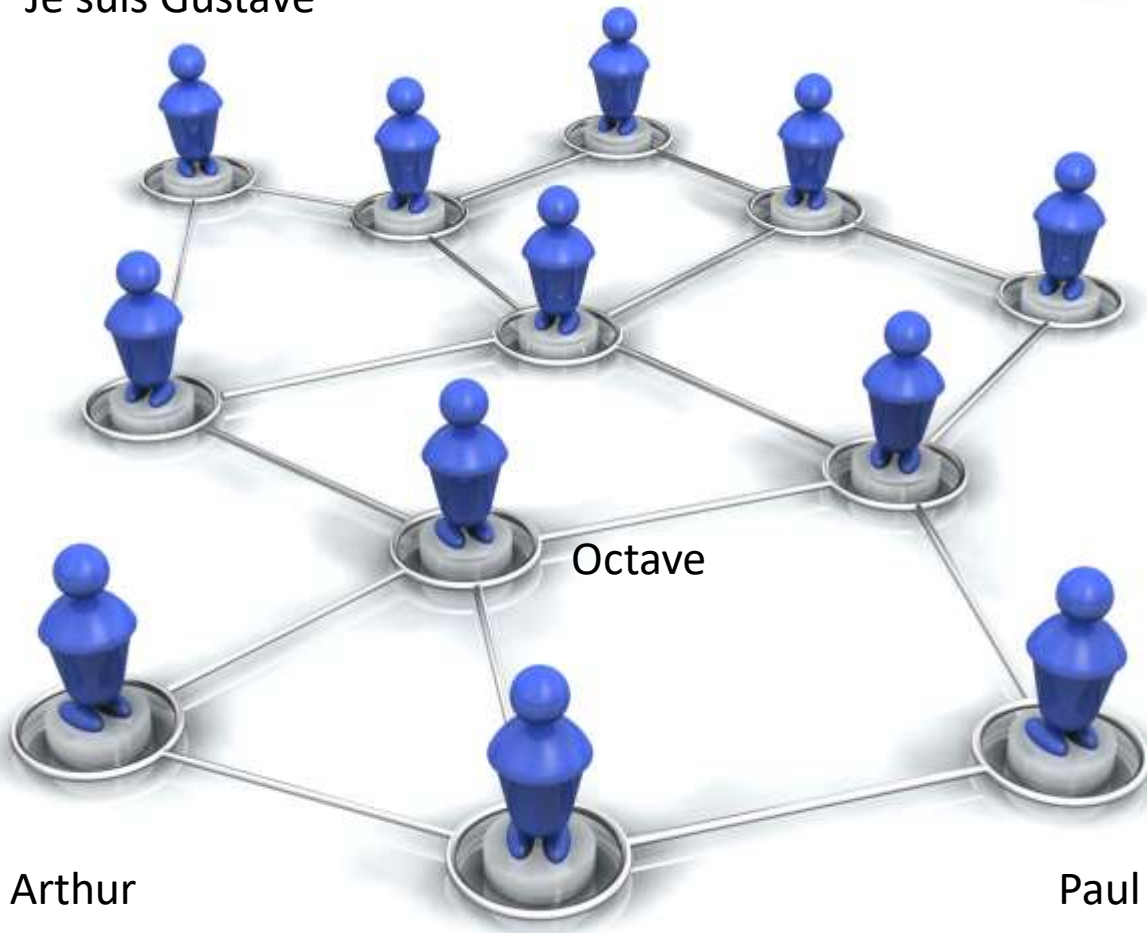
Première Solution

- On l'envoie à tout le monde.
- On réalise une diffusion vers tous les nœuds du réseau :
 - Avantage : si le destinataire est dans le réseau il reçoit l'information
 - Inconvénient : Problèmes de confidentialité puisque tous les nœuds ont l'information.

Routage et plus courts chemins

- Le problème est complexe car si un nœud x veut envoyer une information à un nœud y , il ne sait pas obligatoirement où se trouve notre nœud y dans le réseau.
- Il doit donc calculer un chemin à partir du nœud x afin que l'information atteigne y

Je suis Gustave



Je veux envoyer « Coucou » à Gustave. Je dois l'envoyer à Paul à Arthur ou à Octave?

Seconde solution

- Seconde solution : choisir un chemin de x vers y . L'information circulera seulement sur ce chemin ; C'est la notion de routage.
- Avantage : Gain de confidentialité.

Seconde solution

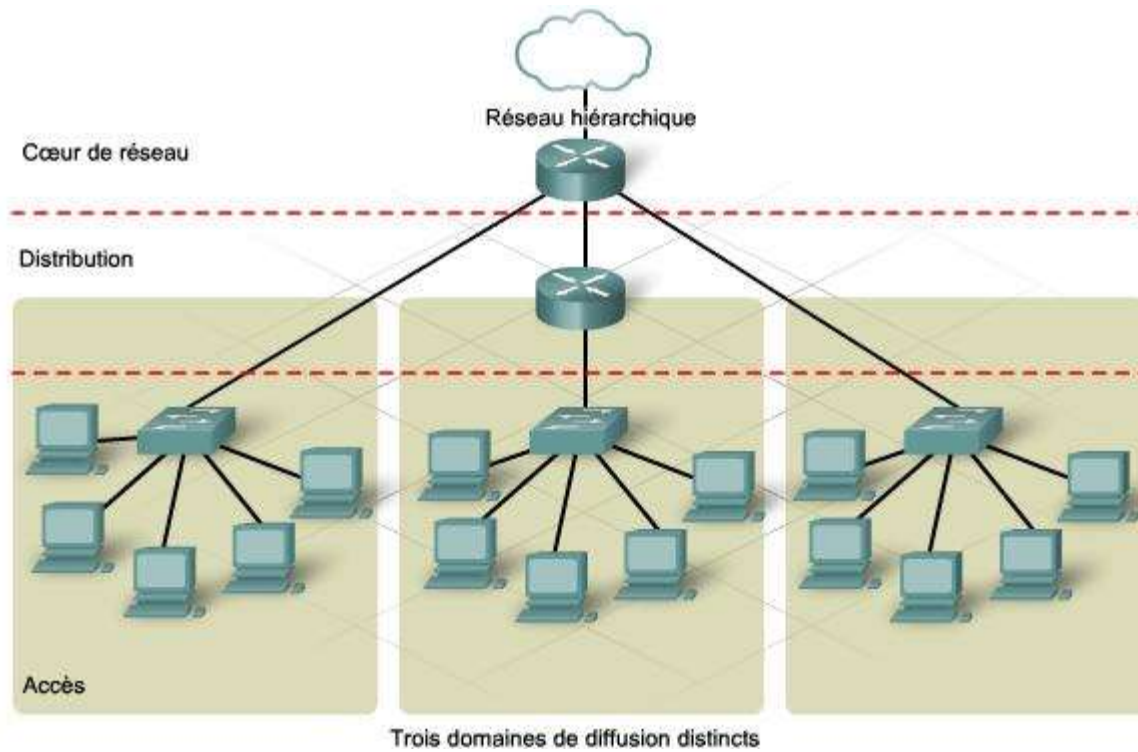
- Le routage est le moyen qui permet à un nœud de choisir un lien vers un de ses voisins pour envoyer une information vers une destination du réseau.
- Pour cela, on utilise souvent une table de routage.

Premiers problèmes liés au routage

- Comment choisir un chemin vers une destination ?
 - Le plus court ?
 - Le chemin de plus forte capacité ?
 - Le moins cher ?
 - Le plus sûr ?
- Comment construire les tables de routage ?
- Comment réduire la taille de ces tables ?

Routage

- Le routage IP est une réponse partielle à ces questions :
 - Réseau hiérarchique
 - Machines spécifiques : Routeur
 - Liens entre divers sous réseaux utilisant des passerelles gérées par ces routeurs.



Comment représenter ce chemin

- On peut calculer ce chemin
 - à la demande (lorsqu'on veut envoyer une information) : Routage réactif
 - Une fois pour toute : Routage Pro-actif.
- Dans le cas du routage pro-actif, une fois calculés ces chemins sont conservés sur les nœuds du réseau.
 - Sous forme de fonctions
 - Sous forme de tables

COMMENT REPRÉSENTER LES INFORMATIONS NÉCESSAIRES AU ROUTAGE ?

Le problème : Et pour Amiens ?



Le problème

- Un nœud lorsqu'il reçoit un message doit être capable de déterminer par quel lien le cheminement du message vers sa destination devra se poursuivre.
- Il existe au moins trois façon de résoudre ce problème

Solution 1 : Le message contient la route qu'il doit suivre

- C'est la solution du GPS qui calcule une fois la route entre le point de départ et le point d'arriver. Après quoi il sait quelle route emprunter à chaque carrefour.
- Inconvénients :
 - l'expéditeur connaît tous les chemins vers tous les destinataires.
 - La longueur du message.

Solution 2 : Le nœud connaît la direction à prendre pour chaque destination

- Idéal pour le message qui ne doit transporter que sa destination.
- Inconvénient : Chaque nœud connaît toutes les destinations du réseau.

Discussion

- La solution 1 est utilisé dans les réseaux fortement dynamiques
- La solution 2 est utilisé dans les réseaux fixes
- Il existe une solution mixte par exemple dans les réseaux de téléphonie cellulaire.

CODER UNE TABLE DE ROUTAGE

Codage d'une table

- Coder une table de routage, c'est établir sur chaque nœud du réseau une correspondance entre une identité (la destination) et un canal.

Exemple : poids des arêtes 1

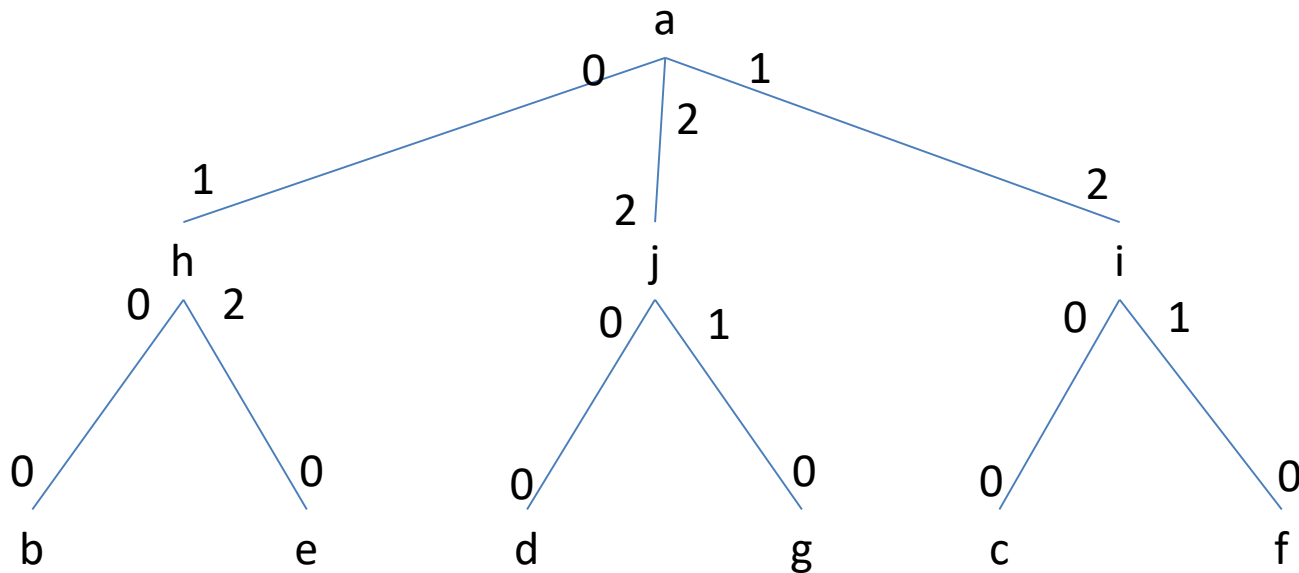


Table de routage de a

Dest	a	b	c	d	e	f	g	h	i	j
Canal	Loc.	0	1	2	0	1	2	1	2	3

Exemple : poids des arêtes 1

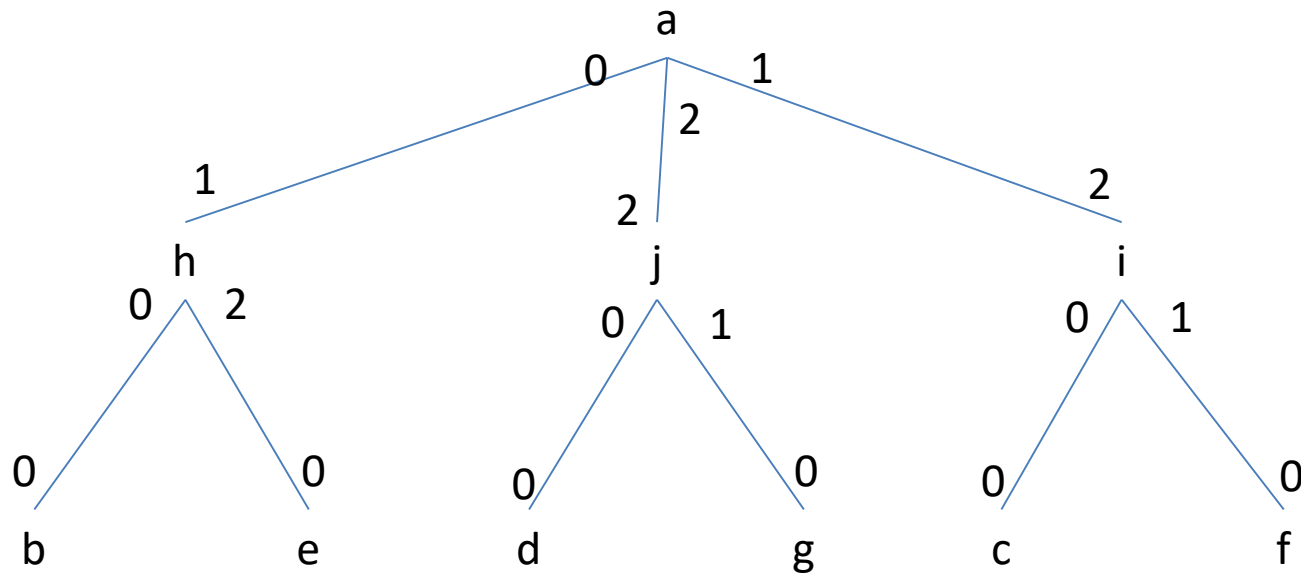


Table de routage de a

canal	0	1	2
Dest	<b, e, h>	<d, g, j>	<c, f, i>

LIMITER LA TAILLE DES TABLES DE ROUTAGE IMPLANTÉES SUR UN NŒUD

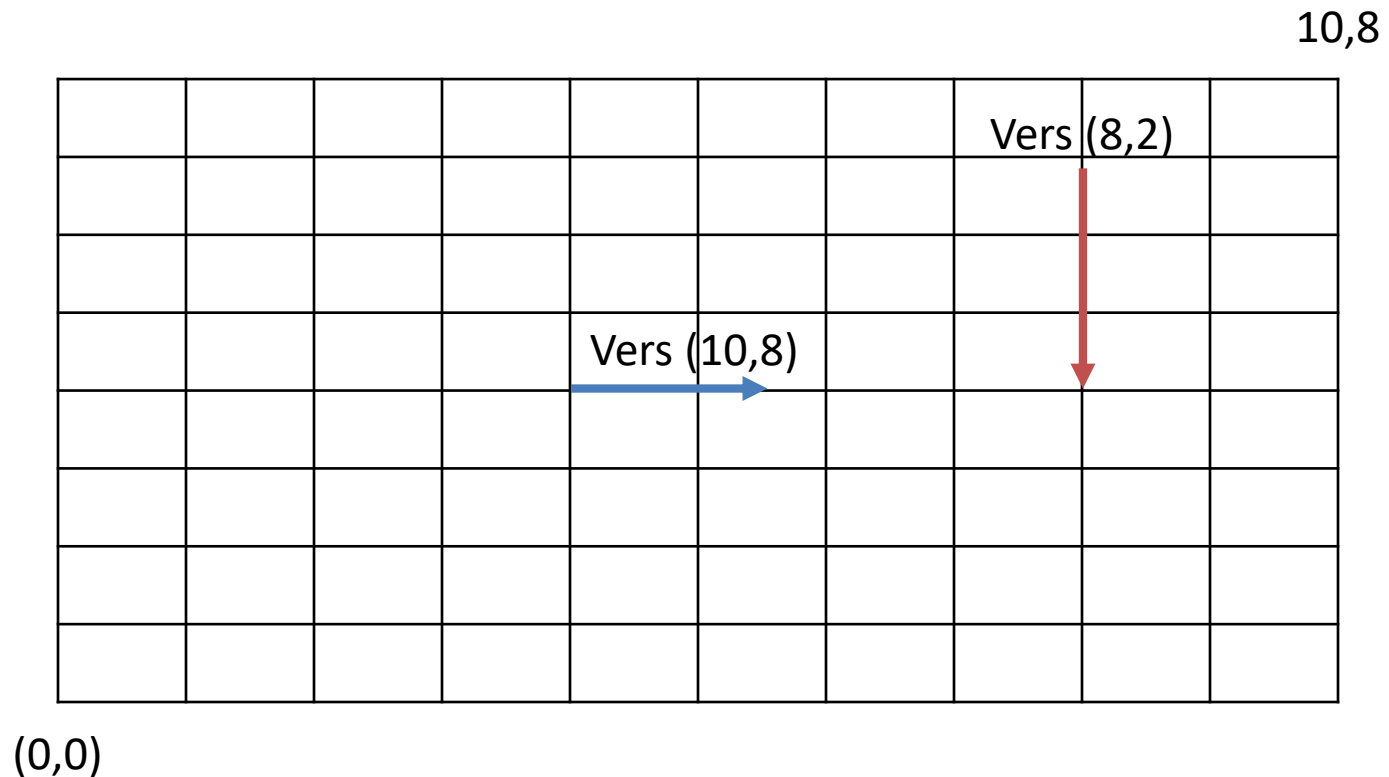
Taille de la table de routage

- Ici pour la taille d'une table de routage on retient l'espace utilisé pour représenter cette information.

Aide par la topologie

- Dans une grille (à 1, 2 ou 3 dimensions) les coordonnées du nœud (courant) et de la destination suffisent pour déterminer quel voisin prolongera le chemin (si toutes les arêtes ont le même poids)
- Il faut que l'étiquetage des nœuds soit cohérent

Exemple sur une grille



Aide par la topologie

- Il en est de même pour des topologies telles que :
 - Les anneaux
 - Les tores
 - Les arbres

Exemple : poids des arêtes 1

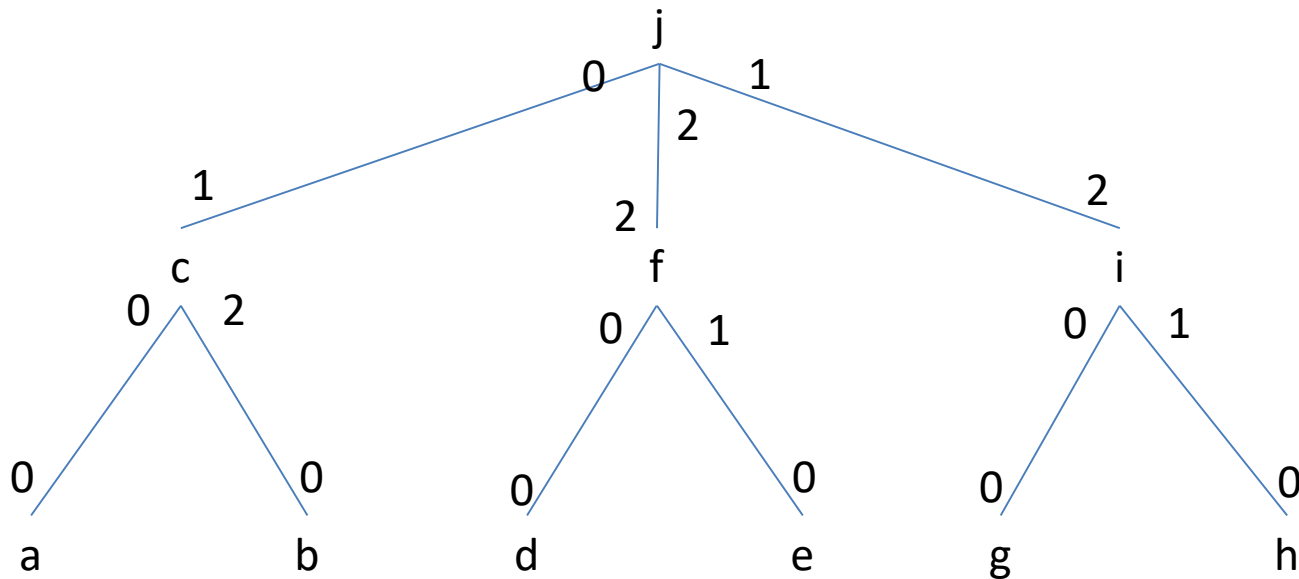


Table de routage de a

canal	0	1	2
Dest	[a..c]	[d..f]	[g..i]

Le nom du destinataire dépend-t-il de sa position dans le réseau ?

- Vrai avec l'adresse IP par exemple
- Faux avec votre téléphone portable

- Pourtant dans les deux cas il faut acheminer l'information ?

Et pour les embouteillages ?



Le routage alternatif



Les solutions radicales ?



Des solutions plus douce

- Peut-on garantir que cela n'arrivera pas ?

Que faire si le réseau est dynamique ?

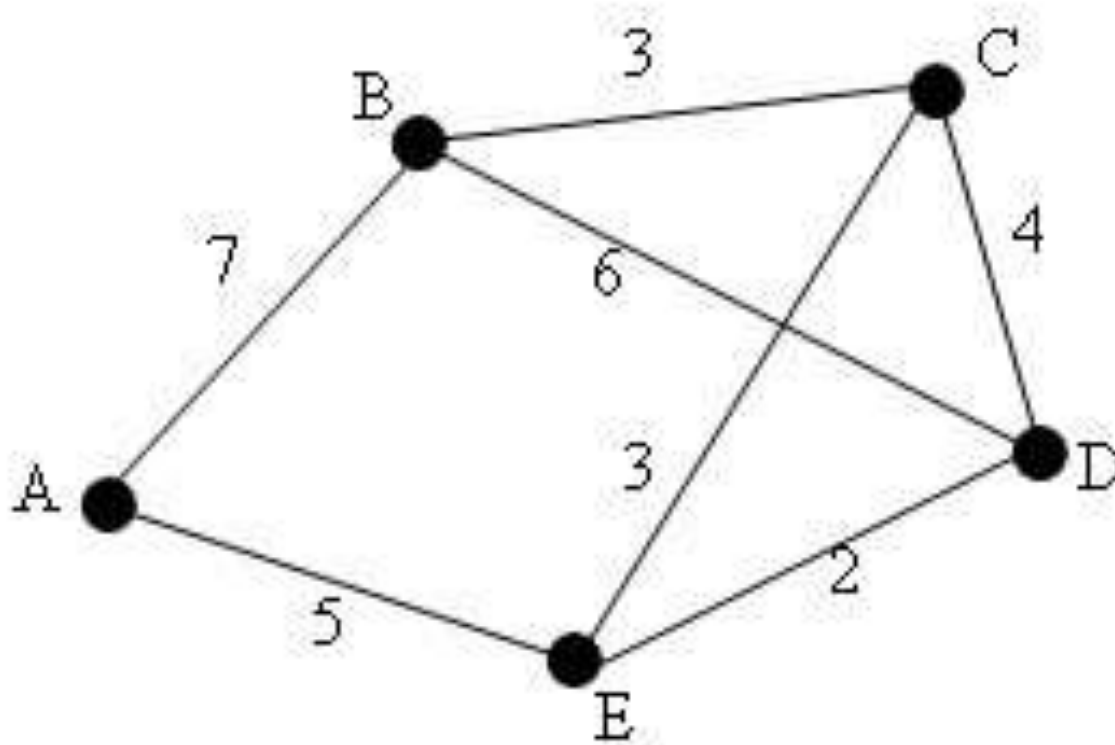


Le problème

- Un réseau peut être représenté par un graphe étiqueté $G=(X,U,V)$
- X ensemble de nœuds du réseau
- U ensemble de liens du réseau
- V une application qui à chaque lien du réseau associe un poids.

ALGORITHME DE PLUS COURT CHEMIN ENTRE TOUT COUPLE DE SOMMETS

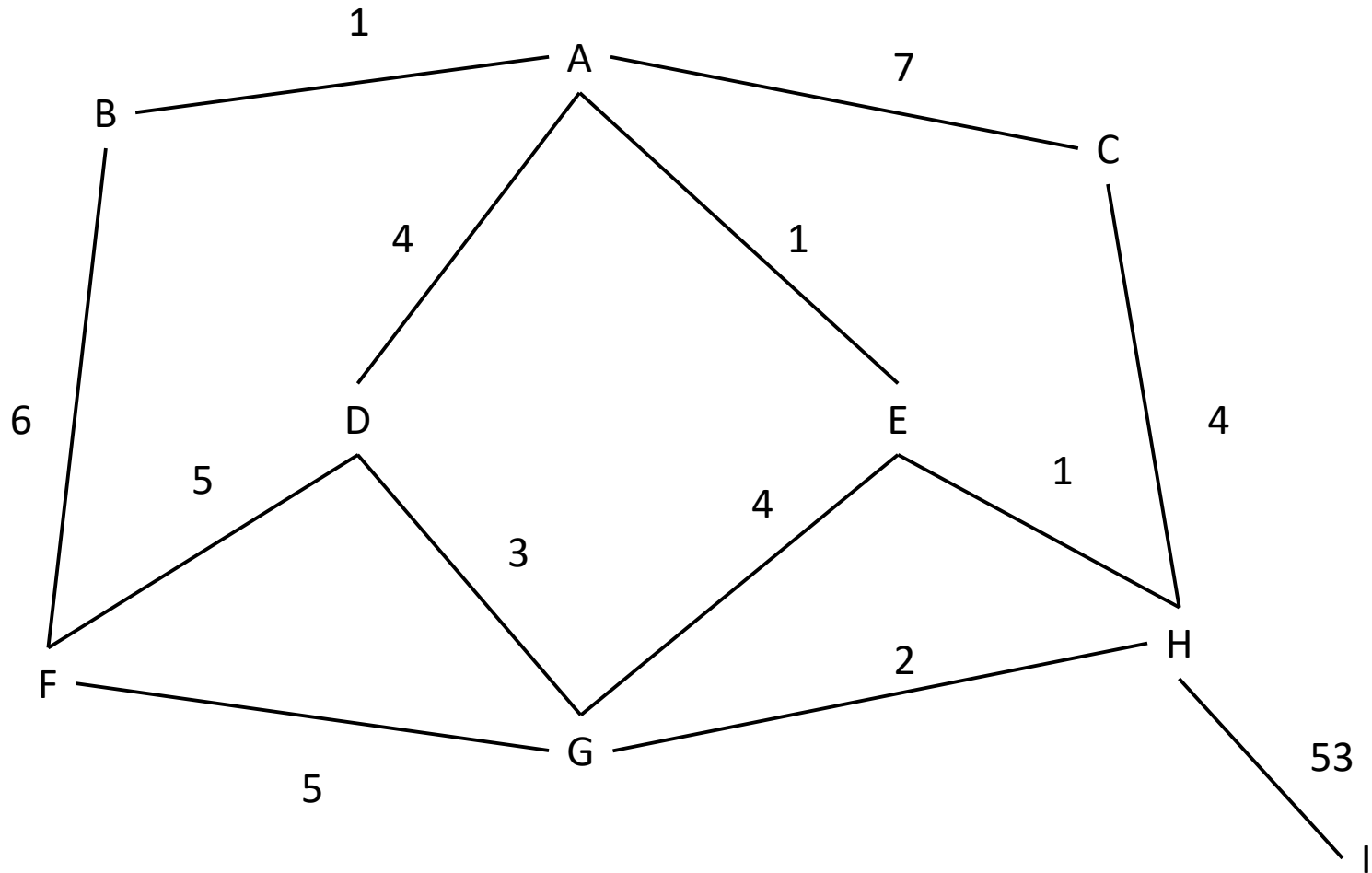
Exemple



Représentation

- La représentation en algorithmique centralisée se fait par une matrice M carrée indicée par les éléments de X
 - $M(x,x) = 0$
 - $M(x,y) = V(x,y)$ si $(x,y) \in U$
 - $M(x,y) = \infty$ si l'arête (x,y) n'est pas dans U

Exemple



Représentation par matrice

	A	B	C	D	E	F	G	H	I
A	0	1	7	4	1	∞	∞	∞	∞
B	1	0	∞	∞	∞	6	∞	∞	∞
C	7	∞	0	∞	∞	∞	∞	4	∞
D	4	∞	∞	0	∞	5	3	∞	∞
E	1	∞	∞	∞	0	∞	4	1	∞
F	∞	6	∞	5	∞	0	5	∞	∞
G	∞	∞	∞	3	4	5	0	2	∞
H	∞	∞	4	∞	1	∞	2	0	53
I	∞	∞	∞	∞	∞	∞	∞	53	0

But

- On souhaite connaître le plus court chemin entre tous les couples de sommets du graphe.
- Utile pour l'acheminement d'information d'une source vers une destination dans un réseau

Représentation Table

	A	B	C	D	E	F	G	H	I
A	(0,_)	(1,B)	(7,C)	(4,D)	(1,E)	(∞,_)	(∞,_)	(∞,_)	(∞,_)
B	(1,A)	(0,_)	(∞,_)	(∞,_)	(∞,_)	(6,F)	(∞,_)	(∞,_)	(∞,_)
C	(7,A)	(∞,_)	(0,_)	(∞,_)	(∞,_)	(∞,_)	(∞,_)	(4,H)	(∞,_)
D	(4,A)	(∞,_)	(∞,_)	(0,_)	(∞,_)	(5,F)	(3,G)	(∞,_)	(∞,_)
E	(1,A)	(∞,_)	(∞,_)	(∞,_)	(0,_)	(∞,_)	(4,G)	(1,H)	(∞,_)
F	(∞,_)	(6,B)	(∞,_)	(5,D)	(∞,_)	(0,_)	(5,G)	(∞,_)	(∞,_)
G	(∞,_)	(∞,_)	(∞,_)	(3,D)	(4,E)	(5,F)	(0,_)	(2,H)	(∞,_)
H	(∞,_)	(∞,_)	(4,C)	(∞,_)	(1,E)	(∞,_)	(2,G)	(0,_)	53
I	(∞,_)	(∞,_)	(∞,_)	(∞,_)	(∞,_)	(∞,_)	(∞,_)	(53,H)	(0,_)

Par opérations sur les matrices

- Pour chaque couple de sommet (x,y) on calcule la valeur

$$v2(xy) = \text{Min}_{z \in X}(v(xz)+v(z,y))$$

- On obtient ainsi le chemin de poids minimal de x à y dont la longueur est au plus 2. Si on souhaite les chemins de longueur au plus 3 on calcule la valeur :

$$v3(xy) = \text{Min}_{z \in X}(v2(xz)+v(z,y))$$

Opération de Base (Entête)

- Algorithme OpMat
- Données :
 - M, N : deux matrices d'entiers indicées par les sommets
- Résultat :
 - Res : Une matrice d'entier indicées par les sommets

Opération de Base (code)

- DébutCode
 - Pour tout $x \in X$ faire
 - Pour tout $y \in X$ faire
 - $\text{Res}[x,y] \leftarrow M[x,y] + N[y,y]$
 - Pour tout $z \in X$ faire
 - » $\text{Res}[x,y] \leftarrow \text{Min}(\text{Res}[x,y], M[x,z] + N[z,y])$
 - FinPour
 - FinPour
 - FinPour
- FinCode

Complexité

- $O(n^3)$ opérations

Algorithme des plus courts chemins : opération matrice (entête)

- Algorithme PCCOMOM
 - Donnée :
 - M la matrice d'un graphe pondéré
 - Résultat :
 - Res une matrice
 - Variables
 - i entier
 - Inter, Inter2 : deux matrices

Algorithme des plus courts chemins : opération matrice (code)

- DébutCode
 - $Inter \leftarrow M; Inter2 \leftarrow M; //$ par duplication
 - Pour tout $x \in X$ faire
 - $Inter[x,x] \leftarrow 0; Inter2[x,x] \leftarrow 0;$
 - FinPour
 - Pour $i \leftarrow 2$ à n faire
 - $OpMat(Inter, Inter2, Res); Inter \leftarrow Res; //$ Duplication
 - FinPour
- FinCode

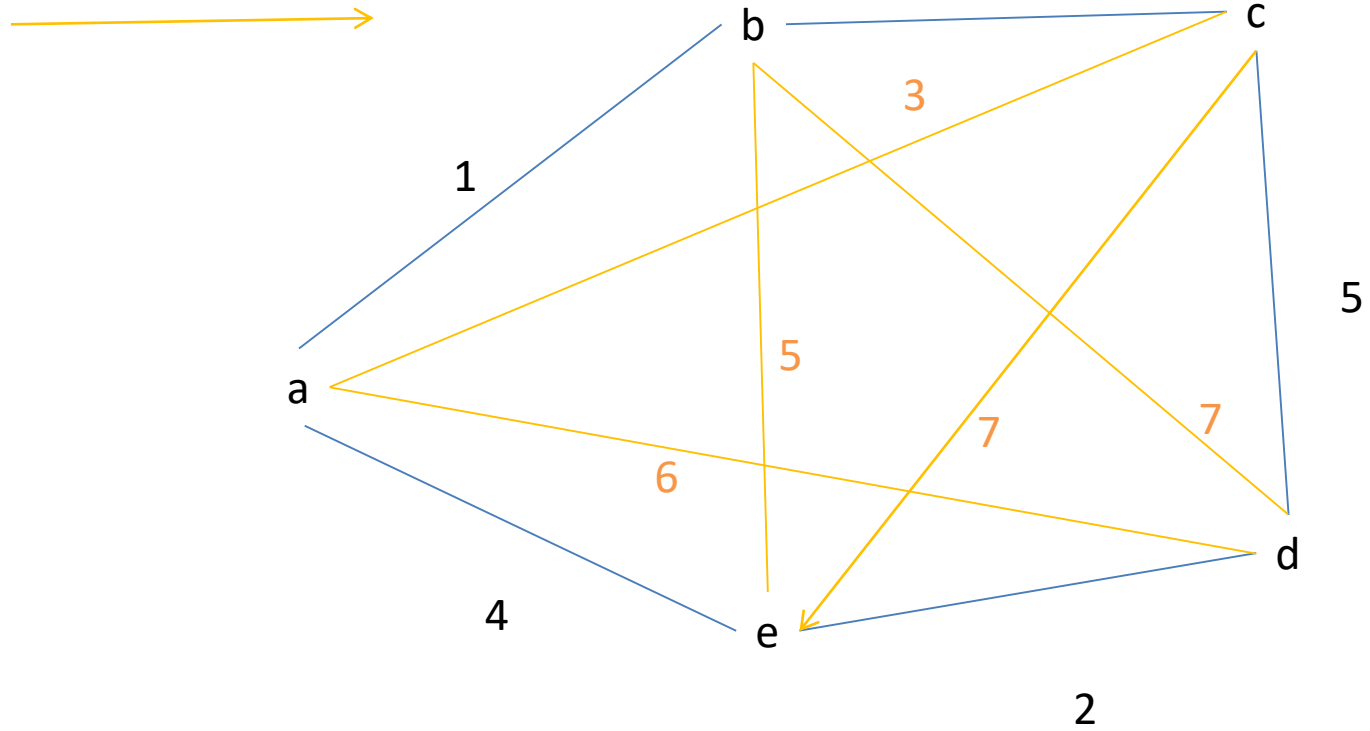
Propriétés

- A la fin du kème tour de boucle, $\text{Inter}[u,v]$ contient le poids d'un chemin de u à v de poids minimal et de longueur au plus $k+1$. C'est l'invariant de l'algorithme
- Complexité $O(n^4)$

Exemple

Initial

Créé au tour 1



Question

- Comment adapter cet algorithme en système distribué ?

Répartition des données

- Chaque nœud contiendra une ligne de la matrice le nœud i contiendra la ligne i de la matrice.
- Ci-dessous la table du nœud A Les liens sont étiquetés par le nom du nœud extrémité

TR	A	B	C	D	E	F	G	H	I
A	(0,_)	(1,B)	(7,C)	(4,D)	(1,E)	(∞ ,_)	(∞ ,_)	(∞ ,_)	(∞ ,_)

Hypothèses

- On considère que tous les nœuds connaissent les identités de tous les nœuds du réseau.
- C l'ensemble de tous les canaux d'un noeud
- Ces canaux sont numérotés de 0 à δ
- Pour chaque canal i : $\text{Coût}(i)$ donne le poids du canal dans le chemin. Les poids sont tous positifs.

Constante et Variables

- Constante : IdLoc identité du nœud
- Variables
- TR un tableau de couple (poids, canal) indicé par les identités du réseau :
 - $TR[IdLoc] \leftarrow (0, _)$
 - $TR[Id] \leftarrow (\infty, _)$ quand $Id \neq IdLoc$
- L une liste de couple (Ident, Poids)
- PremierEnvoi : Booléen init Vrai

Fonction ModifierTable

Donnée

L : Une liste de couples (Id,Poids)

c : Un canal

PremierEnvoie : booléen

Donnée/Résultat TR : la table de routage

Résultat Une liste de couples (Id,Poids)

Fonction ModifierTable

DébutCode

Si PremierEnvoie alors LR \leftarrow \langle (IdLoc, 0) \rangle Sinon LR \leftarrow \langle \rangle

FinSi

TantQue L \neq ListeVide faire

(Id,p) \leftarrow Premier(L); L \leftarrow Suite(L); p \leftarrow p+Coût(c); (ap,can) \leftarrow TR[Id]

Si ap > p alors TR[Id] \leftarrow (p, c); LR \leftarrow Cons((id,p), LR) FinSi

FinTq

Renvoyer(LR) // tous les voisins

FinCode

Action1

Spontanée

Si PremierEnvoi alors

LR \leftarrow ModifierTable($\langle \rangle$,0,PremierEnvoi,TR)

PremierEnvoi \leftarrow Faux,

Envoyer m(LR) sur C

FinSi

FinSpontanée

Action2

A la réception de $m(L)$ sur le canal c alors

$LR \leftarrow \text{ModifierTable}(L,c,\text{PremierEnvoi},TR)$

$\text{PremierEnvoi} \leftarrow \text{Faux},$

Si $LR \neq \langle \rangle$ alors

 Envoyer $m(LR)$ sur C // tous les voisins

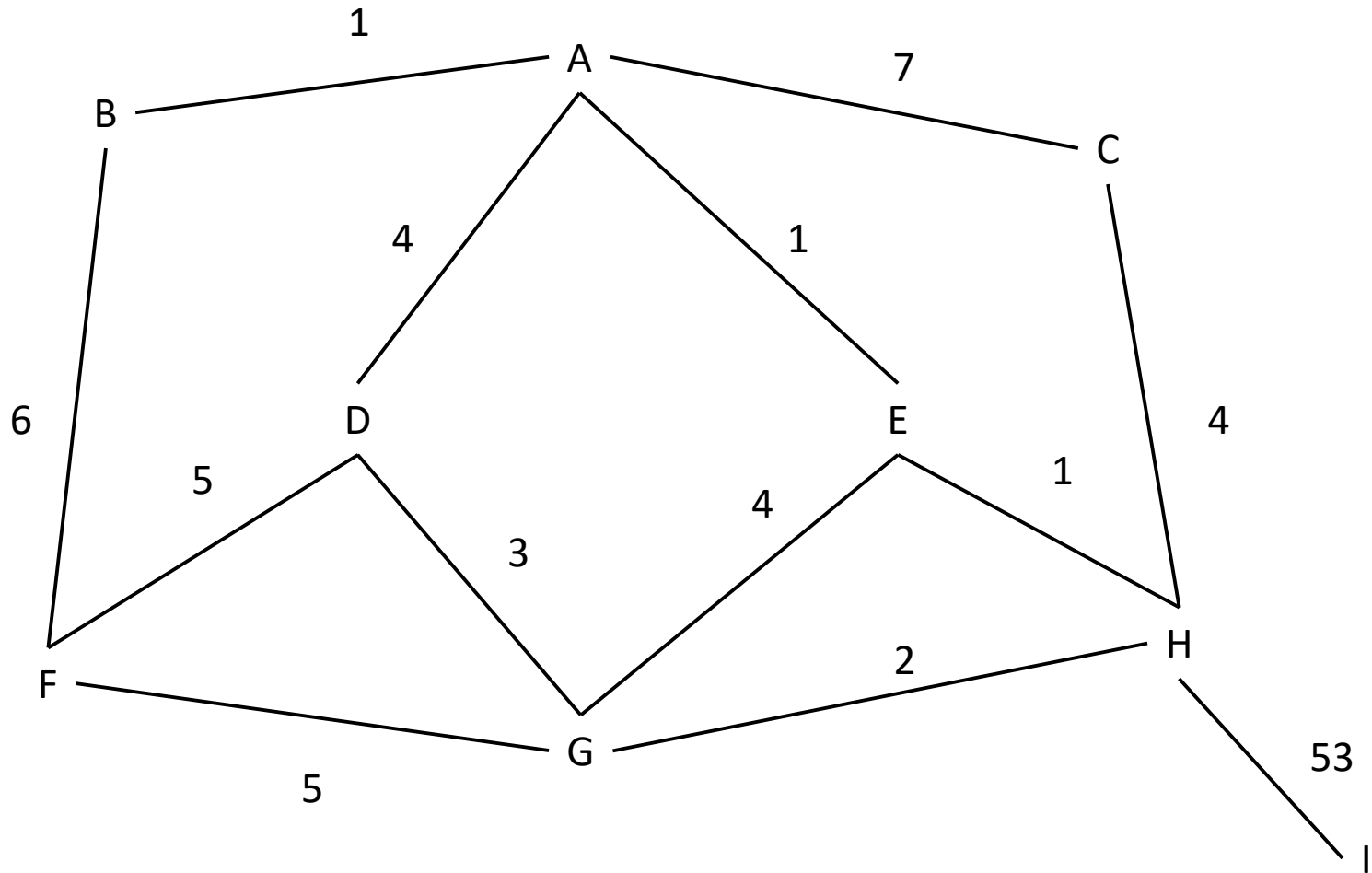
FinSi

FinAction

Exercice

- Donnez une exécution de cet algorithme sur le graphe donné page suivante
- Calculez la complexité

Exemple



Sujets de réflexion

- Comment faire en sorte que les chemins soient construits à la manière de BF, c'est-à-dire les chemins de longueur 0 puis 1 puis 2...
- Comment détecté la terminaison ?

Réduire la taille de la table de routage

- Jusqu'à présent un table de routage code sur chaque nœud tous les couples (Id, canal) utiles pour acheminer les messages. Nous avons donc une taille de la table de routage égale à : $\Theta(n \log(w))$ avec
 - n le nombre de nœud
 - w la valeur maximale d'une identité

Réduire la taille de la table de routage

- Une solution consiste à utiliser le routage par intervalles.
 - $[i,j] = \{i, i+1, i+2, \dots, j-1, j\}$ quand $i < j$
 - $[i,j] = \{i, i+1, \dots, n-1, 0, 1, \dots, j\}$ dans le cas contraire.

Routage par intervalle

- Une table de routage telle que pour tout nœud x :
 - Les destinations associées à chaque canal peuvent être représentées par un intervalle
 - L'intersection des intervalles de deux canaux distincts est vide
 - Chaque destination est présente dans un canal.
- Est un routage par intervalle

Exemple : poids des arêtes 1

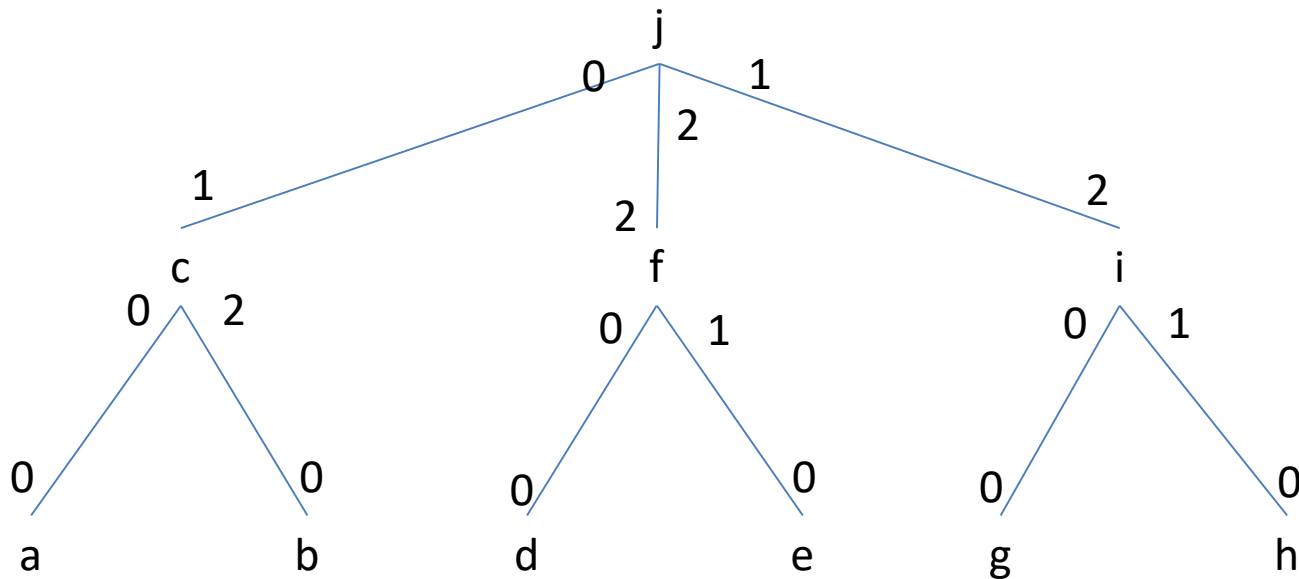


Table de routage de f

canal	0	1	2
Dest	[d]	[e]	[g..c]

Routage par k intervalles

- Une table de routage telle que pour tout nœud x :
 - Les destinations associées à chaque canal peuvent être représentées par k intervalles
 - L'intersection des intervalles de deux canaux distincts est vide
 - Chaque destination est présente dans un canal.
- Est un routage par k intervalles

Avantages/Inconvénient

- Rendre les tables locales plus compactes
- L'identité des nœuds doit être adaptée au réseau (Renommage).
- Dans le cas général on perd l'acheminement du message par le chemin de poids minimal.

Exercices

- Montrez que les parcours d'un arbre en préfixé, postfixé et infixé donne un routage par intervalle sur chaque nœud.
- Montrez que si x est un point d'articulation, alors il est possible de créer au moins un intervalle de routage pour chaque nœud. Du réseau.

Interblocage

- Est-il possible qu'une pénurie de ressources rende l'acheminement des messages impossibles ?
- Peut-on prévenir ces difficultés ?

Interblocage

