

Université de Picardie Jules Verne. Année 2022-2023.
L2-S3

Examen d'Outils Mathématiques - Session 1

Les calculatrices sont interdites.

Barème indicatif: **Ex.1:** 3pts; **Ex.2:** 3pts; **Ex.3:** 3pts, **Ex.4:** 4pts, **Ex.5:** 6pts, **Ex.6:** 5pts, **Ex.7:** 4pts.

Exercice 1: Calculer le déterminant $A = \begin{vmatrix} 1 & -1 & 2 \\ -1 & 5 & -4 \\ 2 & -4 & 6 \end{vmatrix}$

Exercice 2: Calculer $\int \int_R ye^{xy} dx dy$ où $R = [1,2] \times [0,2]$.

Exercice 3: Soit D le domaine délimité par les courbes d'équation: $y = x^2$ et $x = y^2$. Soit γ le contour de D .

1) Rappeler la formule de Green-Riemann.

2) Représenter le domaine D .

3) Calculer $\int_{\gamma} [(2xy - x^2)dx + (x + y^2)dy]$ en utilisant la formule de Green-Riemann.

Exercice 4: On considère la fonction vectorielle de trois variables x, y, z définie par:

$\vec{F}(x, y, z) = 3x\vec{i} + 3y\vec{j} + z\vec{k}$. Calculer le flux de \vec{F} à travers la surface Σ du parabolôïde d'équation: $z = 9 - x^2 - y^2$.

Exercice 5: On considère le contour C de la Figure 1 constitué par deux segments et deux arcs de cercle de rayons respectifs a et b .

Calculer $\int_C [(4 + e^{\sqrt{x}})dx + (\sin y + 3x^2)dy]$

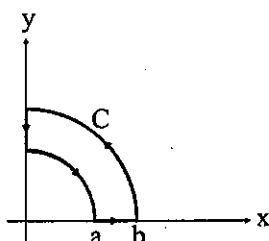


FIG. 1 – courbe C.

Exercice 6: On considère un tore de cercle directeur de rayon R (rayon du cercle horizontal) et de cercle générateur de rayon r (rayon du cercle vertical) cf Figure 2 et Figure 3.

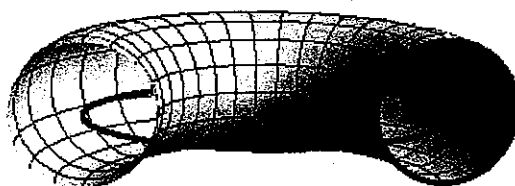


FIG. 2 – Représentation d'une partie du tore.

- 1) Exprimer \overrightarrow{OM} en fonction de \overrightarrow{OI} et de \overrightarrow{IM} .
- 2) Trouver les composantes de chacun des deux vecteurs \overrightarrow{OI} et \overrightarrow{IM} dans le repère $(O, \vec{i}, \vec{j}, \vec{k})$. En déduire les composantes du vecteur \overrightarrow{OM} . On obtient ainsi les équations paramétriques du tore. On se propose de calculer le volume du tore de deux manières différentes.
- 3) a) Calculer le Jacobien $J = \frac{D(x,y,z)}{D(r,u,v)}$. On supposera $R > r$ et u et v sont les angles représentés sur la Figure 3.
- b) En déduire le volume du tore en utilisant le Jacobien précédent.
- 4) Le théorème de Paul Guldin, Mathématicien Suisse, nous dit que le volume du solide engendré par la rotation d'une surface plane K régulière est égal au produit de l'aire de K par la périmètre du cercle décrit par le centre d'inertie de K . Trouver le volume du tore en appliquant le théorème de Guldin; on précisera la surface plane K utilisée et le cercle décrit par le centre d'inertie de K .

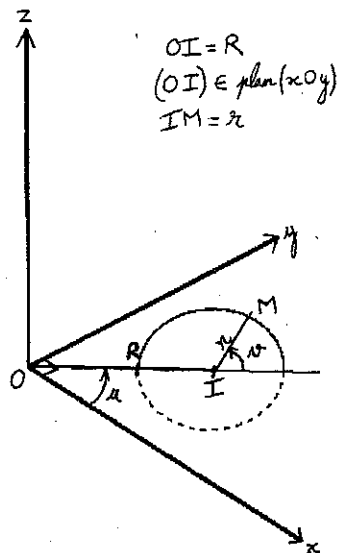


FIG. 3 - Tore de cercle directeur de rayon $OI=R$ et de cercle g n rateur de rayon $IM=r$.

Exercice 7:

On consid re la cardioide d' quation polaire: $\rho = 1 + \cos \theta$ repr sent e sur la Figure 4.

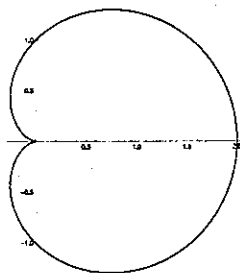


FIG. 4 - Repr sentation de la cardioide d' quation: $\rho = 1 + \cos \theta$.

- 1) Calculer l'aire de la cardioide en fixant d'abord θ .
- 2) Calculer l'aire de la cardioide en appliquant Green-Riemann.

EXAMEN ELECTRONIQUE ANALOGIQUE S3

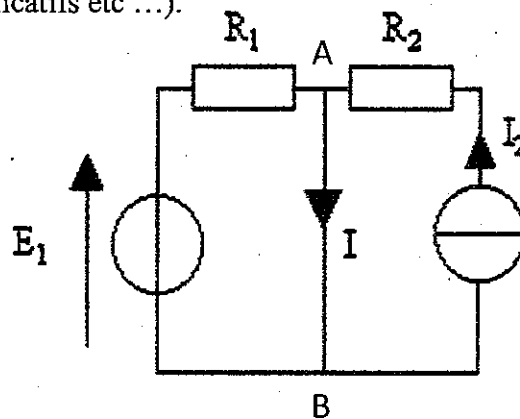
Durée de l'épreuve : 2h00

Seule la calculatrice est autorisée

La notation tiendra compte de la clarté de la rédaction

Exercice 1

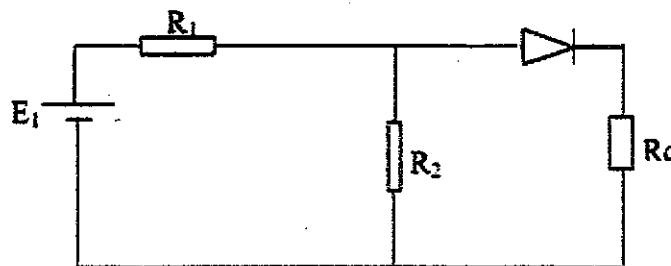
Le but de l'exercice est de déterminer l'expression littérale de l'intensité I dans la branche AB (en fonction des données du problème) par 2 méthodes différentes. Le montage étant simple, une grande importance sera accordée à la clarté de la rédaction (énoncés des lois utilisées, montages / circuits explicatifs etc ...).



- 1- En utilisant le théorème de Thévenin
- 2- En utilisant une autre méthode, celle de votre choix.

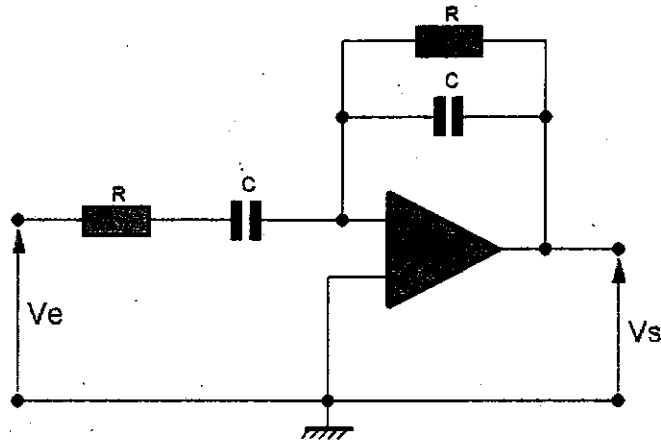
Exercice 2

Le montage ci-dessous est constitué des résistances $R_1 = 5000 \Omega$, $R_2 = 7000 \Omega$, $R_C = 2000 \Omega$, d'un générateur de tension idéal $E_1 = 10 \text{ V}$ et d'une diode supposée parfaite. Déterminer le courant I traversant la diode. On demande une expression littérale puis une application numérique. Il faut étudier les 2 cas possibles pour l'état de la diode.



Exercice 3

Soit le filtre correspondant à la figure suivante :



1- Montrer que la fonction de transfert peut s'écrire sous la forme :

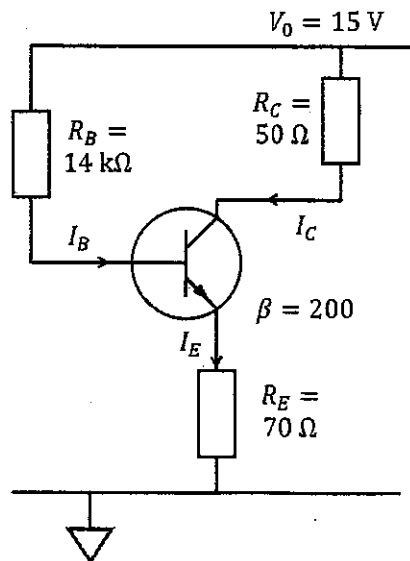
$$\bar{H}(j\omega) = -\frac{jRC\omega}{(1 + jRC\omega)^2}$$

2- A partir d'une étude asymptotique de la fonction de transfert, tracer les diagrammes asymptotiques de Bode. En déduire la nature du filtre

Exercice 4

Soit le montage de la figure ci-dessous. En supposant le transistor dans son régime de fonctionnement linéaire, déterminer le point de polarisation du transistor, c'est-à-dire déterminer les courants I_B , I_C , I_E ainsi que les potentiels à la base V_B , au collecteur V_C et à l'émetteur V_E du transistor.

On demande les expressions littérales puis les applications numériques.



SAE Modéliser un système en Physique et Méthodes numériques (Python).
S3 Licence 2 de Physique /SPI

Question de cours :

Définir la notion de variables et donner les différents types.

1. Écrire un programme, qui définit 3 variables : une variable de type texte, une variable de type nombre entier, une variable de type nombre décimal et qui affiche leur type.

2. Écrire un programme qui, à partir de la saisie d'un rayon et d'une hauteur, calcule le volume d'un cône droit.

3. Écrire un programme qui affiche le type du résultat des instructions suivantes :

a=3

a==3

4. Écrire un programme min_max.py, qui demande de saisir 2 valeurs et qui affiche la plus petite des 2 valeurs.

5. L'utilisateur donne un entier supérieur à 1 et le programme affiche, s'il y en a, tous ses diviseurs propres sans répétition ainsi que leur nombre. S'il n'y en a pas, il indique qu'il est premier.

Par exemple :

Entrez un entier strictement positif : 12

Diviseurs propres sans répétition de 12 : 2, 3, 4, 6 (soit 4 diviseurs propres)

Entrez un entier strictement positif : 13

Diviseurs propres sans répétition de 13 : aucun ! Il est premier

6. Écrire un programme qui approxime par défaut la valeur de la constante mathématique e, pour n assez grand, en utilisant la formule :

$$e \approx \sum_{i=0}^n \frac{1}{i!}$$

Pour cela, définissez la fonction factorielle et, dans votre programme principal, saisissez l'ordre n et affichez l'approximation correspondante de e.

7. Un utilisateur donne un entier n entre 2 et 12, le programme ci-dessous donne le nombre de façons de faire n en lançant deux dés. Il contient des erreurs qu'il faut identifier :

```
n = int(input("Entrez un entier [2 .. 12] : "))
while not(n >= 2 and n <= 12) :
    n = int(input("Entrez un entier [2 .. 12], s.v.p. : "))
s = 0
for i in range[1, 7] :
    for j in range[1, 7] :
        if i+j == n :
            s += 1
print("Il y a { :d} façon(s) de faire { :d} avec deux dés.".format(s, n))
```